



JABATAN PELAJARAN JOHOR

**PEPERIKSAAN PERCUBAAN 2010
SIJIL PELAJARAN MALAYSIA
SEJARAH**

1249/1

Kertas 1
September
1 jam

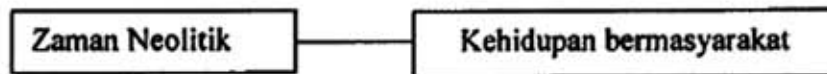
Satu Jam

JANGAN BUKA KERTAS SOALAN INI SEHINGGA DIBERITAHU

1. *Kertas soalan ini mengandungi 40 soalan.*
2. *Jawab semua soalan.*
3. *Jawab dengan menghitamkan ruangan yang betul pada kertas jawapan.*
4. *Hitamkan satu ruangan sahaja bagi setiap soalan.*
5. *Sekiranya anda hendak menukarkan jawapan, padamkan tanda yang telah dibuat. Kemudian hitamkan jawapan yang baru.*

Kertas soalan ini mengandungi 14 halaman bercetak

- 1 Rajah I berkaitan dengan ciri masyarakat Zaman Neolitik.



Rajah I

Apakah kesan ciri tersebut?

- A Penciptaan tembikar
 - B Pertukaran barang
 - C Pengkhususan kerja
 - D Penternakan binatang
- 2 Siapakah yang membantu golongan rahib dalam urusan pentadbiran tamadun Mesir Purba?
- A Tuan tanah
 - B Jurutulis
 - C Artisan
 - D Petani
- 3 Gambar I menunjukkan binaan acropolis di Yunani.



Gambar I

Apakah tujuan binaan tersebut?

- A Keagamaan
- B Kesenian
- C Kepercayaan
- D Kepahlawanan

4 Apakah bentuk mata wang yang digunakan semasa Zaman Gupta di India?

- A Timah
- B Perak
- C Emas
- D Gangsa

5 Apakah faktor yang menyebabkan kerajaan Angkor menjadi kerajaan yang kuat?

- A Kedudukan
- B Ketenteraan
- C Kemudahan
- D Keselamatan

6 Apakah candi yang mempunyai ciri-ciri berikut?

- | |
|--|
| <ul style="list-style-type: none">• Melambangkan orde kosmos• Terdapat ukiran menggambarkan epik Ramayana dan Mahabharata |
|--|

- A Borobudur
- B Angkor Wat
- C Prambanan
- D Dieng

7 Khadijah binti Khuwailid merupakan isteri Nabi Muhammad s.a.w. yang digelar *al-thaharah*.

Mengapakah beliau diberi gelaran tersebut?

- A Sentiasa menjauhi maksiat
- B Sentiasa patuh perintah Allah
- C Sering jujur dalam perniagaan
- D Sering membantu Nabi Muhammad s.a.w.

- 8** Apakah tujuan penghijrahan Nabi Muhammad s.a.w. ke Habsyah?
- A Menyebarkan ajaran Islam
 - B Mendapat perintah Allah
 - C Merancang strategi
 - D Mendapatkan perlindungan
- 9** Golongan Ansar sentiasa memberi bantuan dan kerjasama kepada golongan Muhajirin. Apakah bukti yang menunjukkan sikap tersebut?
- I Menjaga maruah
 - II Menyediakan modal
 - III Menjaga keselamatan
 - IV Membantu perniagaan
- A I dan II
 - B I dan IV
 - C II dan III
 - D III dan IV
- 10** Apakah kandungan Perjanjian Hudaibiyah yang mengakibatkan Nabi Muhammad s.a.w. dapat merangka program dakwah?
- A Kebenaran mengerjakan umrah
 - B Kebebasan memihak bagi orang Islam Madinah
 - C Kebebasan memihak bagi kabilah Arab
 - D Gencatan senjata selama 10 tahun
- 11** Kerajaan Bani Umaiyah telah berjaya melakukan penyelidikan dalam bidang pertanian. Apakah kemajuan tersebut?
- A Menggunakan baja asli
 - B Mencipta peralatan moden
 - C Mendapatkan benih berkualiti
 - D Mengusahakan tanah terbiar

- 12 Apakah dasar yang diamalkan oleh Kerajaan Uthmaniyah ke atas jajahannya di Balkan?
- A Birokrasi
 - B Diplomasi
 - C Berkecuali
 - D Berbaik-baik
- 13 Apakah peranan syahbandar di beberapa bandar pelabuhan di Asia Tenggara?
- A Membantu menyebarkan Islam
 - B Menguatkuasakan sistem sukat
 - C Mewujudkan sistem cukai
 - D Mengharamkan riba
- 14 Mengapakah undang-undang syariah tidak dapat dilaksanakan sepenuhnya oleh pemimpi kerajaan Islam Asia Tenggara?
- A Terpengaruh dengan undang-undang Barat
 - B Terikat dengan undang-undang keluarga
 - C Terikat dengan undang-undang adat
 - D Tekanan kerajaan bukan Islam
- 15 Ulama tempatan telah mengubahsuai huruf Arab dalam al-Quran bagi menulis perkataan Melayu sejak abad ke-15.
Apakah implikasi terhadap pengubahsuaian tersebut?
- A Mewujudkan tulisan jawi
 - B Perkembangan tulisan kawi
 - C Mewujudkan pelbagai karya
 - D Perkembangan kesusasteraan

- 16 Gambar 2 menunjukkan mata wang timah Kedah berbentuk seekor ayam jantan yang hinggap di atas beberapa cincin.



Gambar 2

- Apakah keunikan mata wang tersebut?
- A Boleh dijadikan perhiasan
 - B Tertera nama sultan
 - C Tertera tulisan jawi
 - D Boleh dipatahkan
- 17 Bagaimanakah Revolusi Pertanian memberi sumbangan kepada perkembangan Revolusi Perindustrian di Britain?
- A Menyediakan modal
 - B Menyediakan bahan mentah
 - C Meningkatkan daya kreativiti
 - D Memperkembang sains dan teknologi
- 18 Apakah implikasi kemasukan buruh luar yang dibawa masuk oleh kuasa Barat ke Asia Tenggara?
- A Penglibatan dalam politik
 - B Perubahan komposisi etnik
 - C Penempatan yang sistematik
 - D Penggunaan pelbagai dialek

- 19 Senarai berikut merupakan individu yang memainkan peranan dalam kemasukan buruh ke Tanah Melayu.

- kheh-thau
- kangani

Apakah ciri persamaan mereka?

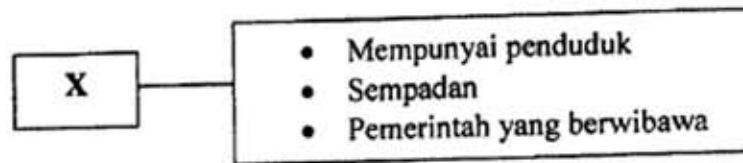
- A Membekal buruh
 - B Mendirikan sekolah
 - C Membangunkan bandar
 - D Meningkatkan infrastruktur
- 20 Mengapakah urus niaga berikut sukar dilaksanakan dalam kalangan masyarakat Melayu tradisional?

- Pajakan
- Sewa beli
- Penjualan

- A Larangan adat
 - B Hak mutlak raja
 - C Sekatan pembesar
 - D Rekod pemilikan tiada
- 21 Mengapakah negara India dan China menjadi sasaran imperialisme Barat?
- A Pasaran yang luas
 - B Sistem politik stabil
 - C Kedudukannya strategik
 - D Kekayaan bahan mentah

- 22 Mengapakah penduduk Filipina membenci sistem Encomienda?
- I Kerahan tenaga
 - II Cukai yang tinggi
 - III Tekanan ekonomi
 - IV Sistem kehakiman
- A I dan II
B I dan IV
C II dan III
D III dan IV
- 23 Apakah matlamat perjuangan Gerakan Islah di Tanah Melayu?
- A Menyebarkan agama Islam
 - B Mengembalikan hak umat Islam
 - C Memperkenalkan perundangan Islam
 - D Membetulkan pandangan terhadap Islam
- 24 Apakah implikasi Kongres Melayu pada tahun 1939 dan 1940 ke atas orang Melayu?
- A Kemajuan pendidikan
 - B Perkembangan karya sastera
 - C Penglibatan dalam pentadbiran
 - D Perasaan kenegerian dapat diatasi

25 Rajah 2 menerangkan ciri sebuah negara dan bangsa.



Rajah 2

Apakah X?

- A Bangsa
 - B Negara
 - C Kerajaan
 - D Perlembagaan
- 26 British menjadikan Sabah jajahan takluknya pada tahun 1946. Mengapakah penduduk tempatan tidak menentang?
- A Persatuan bersifat sederhana
 - B Menekankan tindakan politik
 - C Pemimpin tidak bersatu padu
 - D Persatuan lebih berorganisasi

- 27 Jadual 3 berkaitan dengan penentangan penduduk tempatan terhadap pengisytiharan Sarawak oleh British.

Tarikh	8 Februari 1946
Peristiwa	Penentangan oleh Persatuan Melayu Sarawak (PMS) dan Persatuan Dayak Sarawak (PDS)

Jadual 3

Mengapakah penentangan tersebut berlaku?

- I Bercanggah dengan adat tempatan
 - II Bercanggah dengan Perlembagaan 1941
 - III Orang tempatan tidak dibawa berunding
 - IV Orang tempatan tidak terlibat dalam pentadbiran
- A I dan II
 - B I dan IV
 - C II dan III
 - D III dan IV
- 28 Apakah tujuan Sistem Ahli dilaksanakan dari bulan Januari 1951 hingga Jun 1955?
- A Menuntut kemerdekaan negara
 - B Menghasilkan kerjasama politik
 - C Menyelesaikan perpaduan antara kaum
 - D Melatih orang tempatan berkerajaan sendiri

- 29 Pernyataan berikut menunjukkan keputusan Pilihan Raya Majlis Perundangan Persekutuan 1955.

Parti Perikatan menang 51 daripada 52 kerusi

Apakah jawatan yang disandang oleh Tunku Abdul Rahman setelah Parti perikatan memenangi pilihan raya tersebut?

- A Presiden
 - B Menteri Besar
 - C Ketua Menteri
 - D Perdana Menteri
- 30 Mengapakah Lee Kuan Yew mendesak British menggabungkan Singapura dengan Persekutuan Tanah Melayu?
- A Memajukan ekonomi
 - B Mengimbangi penduduk
 - C Menjamin kestabilan politik
 - D Membanteras ancaman komunis
- 31 Mengapakah tarikh pembentukan Malaysia ditunda pada 16 September 1963?
- A Halangan pihak komunis
 - B Tentangan Filipina dan Indonesia
 - C Tentangan Barisan Sosialis Singapura
 - D Halangan Parti Bersatu Rakyat Sarawak

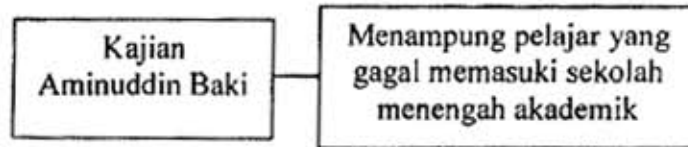
32 Maklumat berikut berkaitan dengan undang-undang di Malaysia.

Akta	Enakmen	Ordinan
Parlimen	Dewan Undangan Negeri Semenanjung	Dewan Undangan Negeri Sabah dan Sarawak

Apakah yang perlu dilakukan dalam proses meluluskan undang-undang di atas pada peringkat akhir?

- A Pewartaan
 - B Pembacaan ketiga
 - C Penurunan cap mohor
 - D Penyerahan rang undang-undang
- 33 Mengapakah Suruhanjaya Pilihan Raya ditubuhkan?
- A Memilih wakil rakyat
 - B Menyediakan manifesto parti
 - C Menjamin pilihan raya yang adil
 - D Menentukan calon yang bertanding
- 34 Apakah maksud bulan sabit berwarna kuning pada bendera kebangsaan?
- A Kedaulatan Raja-Raja Melayu
 - B Perpaduan rakyat berbilang kaum
 - C Agama Islam sebagai agama rasmi
 - D Melambangkan semangat keberanian
- 35 Apakah gambaran yang diperoleh melalui lirik lagu kebangsaan?
- A Kemajuan negara
 - B Kesetiaan rakyat
 - C Unsur kemelayuan
 - D Semangat perpaduan

36 Apakah sistem persekolahan yang dilaksanakan selepas kajian berikut dibuat?



- A Dua bahasa pengantar
 B Pendidikan percuma
 C Sekolah vernakular
 D Aneka jurusan
- 37 Mengapakah program pembangunan in-situ diperkenalkan?
 A Merangsang pembangunan industri
 B Memudahkan operasi sektor swasta
 C Meningkatkan pendapatan sektor pertanian
 D Memulihkan kawasan berproduktiviti rendah
- 38 Maklumat berikut menerangkan perubahan dasar luar Malaysia.

Tahap 1	Tahap 2
Dasar pro-Barat dan antikomunis	Dasar berkecuali dan berbaik-baik dengan semua negara

Mengapakah berlakunya perubahan tersebut?

- A Krisis dengan Indonesia
 B Pergolakan di Vietnam
 C Pergantungan kepada Britain
 D Pengaruh komunis di Malaysia

- 39 Mengapakah pertubuhan ASA dibubarkan pada tahun 1963?
- A Ancaman komunis
 - B Penubuhan Malaysia
 - C Campurtangan asing
 - D Konfrontasi Indonesia
- 40 Pernyataan berikut berkaitan dengan globalisasi.

Perubahan yang menjadikan dunia tanpa sempadan

Apakah faktor yang membawa kepada perubahan tersebut?

- A Pelaksanaan sistem pasaran bebas
- B Kemunculan negara maju
- C Kemajuan teknologi maklumat
- D Pergantungan terhadap kuasa besar

KERTAS SOALAN TAMAT