

3755/1
Perdagangan
Kertas 1
Ogos
2010
1¼ jam

**PEPERIKSAAN PERCUBAAN
SIJIL PELAJARAN MALAYSIA
NEGERI PERAK
2010**

PERDAGANGAN

Kertas 1

Satu jam lima belas minit

JANGAN BUKA KERTAS SOALAN INI SEHINGGA DIBERITAHU

1. *Kertas soalan ini mengandungi 40 soalan.*
2. *Jawab semua soalan.*
3. *Jawab dengan menghitamkan ruangan yang betul pada kertas jawapan.*
4. *Hitamkan satu ruangan sahaja bagi setiap soalan.*
5. *Sekiranya anda hendak menukarkan jawapan, padamkan tanda yang telah dibuat. Kemudian hitamkan jawapan yang baru.*
6. *Anda boleh membuat kerja mengira di ruangan kosong pada kertas soalan.*
7. *Anda dibenarkan menggunakan kakulator saintifik yang tidak boleh diprogramkan.*

Kertas soalan ini mengandungi 12 halaman bercetak

1. Antara berikut yang manakah merupakan keperluan sosial manusia?

- A Keagamaan
 B Keselamatan
 C Penghargaan
 D Sempurna sendiri

2. Gambar 1 menunjukkan suatu aktiviti pengeluaran.



Gambar 1

Apakah aktiviti pengeluaran tersebut?

- A Bantuan perniagaan
 B Khidmat langsung
 C Perdagangan
 D Perusahaan

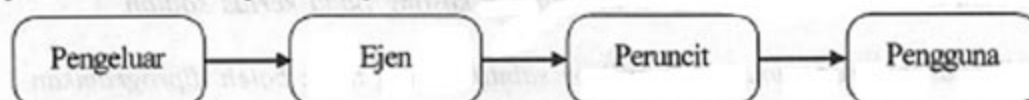
3. Di kilang pakaian, pekerja diberi tugas yang khusus mengikut jabatan seperti mereka bentuk, memotong, menjahit dan membungkus. Apakah jenis pengkhususan itu?

- A Pengkhususan profesion
 B Pengkhususan antarabangsa
 C Pengkhususan mengikut proses
 D Pengkhususan mengikut kawasan

4. Antara berikut, bantuan perniagaan yang manakah membantu menstabilkan harga barang?

- I Pergudangan
 II Pengangkutan
 III Komunikasi
 IV Insurans
- A I dan II
 B I dan IV
 C II dan III
 D III dan IV

5. Rajah 1 berkaitan dengan suatu jenis saluran agihan.



Rajah 1

Apakah jenis barang yang sesuai dipasarkan melalui saluran agihan tersebut?

- I Ubat-ubatan
 II Kosmetik
 III Majalah
 IV Surat khabar
- A I dan II
 B I dan IV
 C II dan III
 D III dan IV

6. Apakah kelebihan peruncit besar-besaran berbanding peruncit kecil-kecilan?

- A Perkhidmatan selepas jualan C Kemudahan kredit
B Pelbagai kemudahan D Layanan peribadi

7. Rajah 2 menunjukkan satu dokumen perniagaan dalam negeri.

Syarikat Pemborong Istimewa Sdn. Bhd.				
119, Jalan Besar, 31000 Batu Gajah Perak Darul Ridzuan				
Telefon: 05-3663007 Faksimili: 05-36643008				
E-mel: istimewal@tm.net.com				
Kepada			Tarikh: 23 Februari 2003	
Pasar Mini Meru Jaya				
Lot 3, Jalan Meru Utama,				
30020 Ipoh				
No. Pesanan Tuan: 8/2003			No. Invois: 2111	
Nombor rujukan	Baru	Kuantiti	Harga per unit (RM)	Jumlah (RM)
CB101	6 botol Cuka Buatan 1 x 6 x 330ml rosak dipulangkan kembali		6.00	6.00
	Tolak: diskaun mata 10%			0.60
	Jumlah bersih			5.40
(Ringgit: Lima dan empat puluh sen sahaja)				
Syarat: Dengan lori Syarikat Pengangkutan Muda Sdn. Bhd.				
5%, 14 hari			K & K diK	
2%, 30 hari				
Ganesh Akauntan				

Rajah 2

Apakah dokumen tersebut?

- A Nota kredit C Penyata akaun
B Sebut harga D Invois proforma

8. Gambar 2 menunjukkan beberapa contoh jenis barang.



Gambar 2

Nyatakan kaedah jualan yang sesuai dengan jenis barang tersebut?

- A Jualan tunai C Jualan prabayar
B Jualan kredit D Jualan konsainan

9. Pernyataan yang manakah berkaitan dengan kepentingan perniagaan antarabangsa kepada pengeluar?
- I Pertukaran asing meningkat
 II Taraf hidup meningkat
 III Sumber bekalan banyak
 IV Pasaran lebih luas
- A I dan II
 B I dan IV
 C II dan III
 D III dan IV
10. Rajah 3 menunjukkan logo satu pertandingan sukan bertaraf antarabangsa yang diadakan di Malaysia.



Rajah 3

Mengapakah Malaysia menganjurkan pertandingan tersebut?

- A Menambahkan eksport tak nyata
 B Mengurangkan eksport tak nyata
 C Menambahkan import tak nyata
 D Mengurangkan import tak nyata
11. Pilih pernyataan yang benar tentang halangan perniagaan antarabangsa dan cara mengatasinya.

	Halangan Perniagaan Antarabangsa	Cara mengatasinya
A	Prosedur kastam dan sekatan perniagaan	Mewujudkan kerjasama perniagaan
B	Masalah sukatan dan timbangan	Melaksanakan promosi
C	Standard dan syarat import	Mengeluarkan barang berkualiti
D	Cara pembayaran berbeza	Mendapatkan skim perlindungan insurans

12. Maklumat berikut menerangkan ciri satu bidang pembuatan dalam Industri Kecil dan Sederhana (IKS).

- Melibatkan teknologi kimpalan
- Menghasilkan komponen jentera

Apakah bidang pembuatan tersebut?

- A Industri berasaskan logam
 B Industri berasaskan sumber
 C Industri komponen automotif
 D Industri komponen elektrik dan elektronik

16. Rajah 5 menunjukkan dua unit papan tanda perniagaan.



Rajah 5

Apakah kelebihan Perniagaan Q berbanding Perniagaan R?

- A Modal lebih besar
 B Syer mudah dipindah milik
 C Menanggung liabiliti terhad
 D Hal ehwal syarikat dirahsiakan
17. Antara berikut, dokumen yang manakah perlu dipamerkan di ibu pejabat premis syarikat?
- A Tataurus syarikat
 B Tatawujud syarikat
 C Perakuan pematuhan syarikat
 D Perakuan pemerbadanan syarikat
18. Antara berikut yang manakah **bukan** aktiviti pelaburan?
- A Rohana membeli rumah untuk disewa
 B Sarojini membeli 1000 unit syer Syarikat Megah Berhad
 C Kooi Yuan membuka akaun semasa di Maybank Berhad
 D Bah Mamat menyimpan RM10 000 dalam simpanan tetap
19. Maklumat berikut berkaitan dengan aktiviti yang dilakukan oleh Encik Fadly.

Pada 1 April 2009, Encik Fadly membeli sebuah rumah dengan harga RM 120 000. Dia menyewakan rumah itu mulai 1 Ogos 2009 dengan kadar RM 600 sebulan. Pada 31 Mac 2010, dia menjual rumah itu dengan harga RM 145 000.

Hitungkan jumlah pulangan yang diperolehi atas pelaburan Encik Fadly itu.

- A RM 27 400
 B RM 29 200
 C RM 29 800
 D RM 32 200
20. Pernyataan di bawah merujuk kepada satu jenis syer.

- Kadar dividen tetap
- Pemegang syer berhak mendapat dividen tunggakan tahun sebelumnya

Apakah jenis syer itu?

- A Syer keutamaan kumulatif
 B Syer keutamaan penyertaan
 C Syer keutamaan boleh tukar
 D Syer keutamaan boleh tebus

21. Maklumat berikut berkaitan dengan Syarikat Lazat Berhad.

Syarikat Lazat Berhad, pemilik rangkaian restoran makanan segera bercadang mengambil alih Syarikat Maju Ternak Sdn. Bhd. yang mengusahakan ladang ternakan ayam.

Apakah jenis bank yang boleh membantu Syarikat Lazat Berhad?

- A Bank koperasi
B Bank saudagar
C Bank perdagangan
D Bank badan berkanun
22. Antara berikut, yang manakah **benar** tentang akaun simpanan tetap di bank perdagangan?
- A Penyimpan diberi buku cek
B Penyimpan diberi buku simpanan
C Simpanan untuk satu tempoh tertentu
D Simpanan boleh dikeluarkan bila-bila masa
23. Rajah 6 menunjukkan sekeping cek.

Bank Putri Bhd.	BANK MALAYSIA BERHAD Taiping, Perak.	Stamp Duti Paid 56-12453 Tarikh: 01.08.2010
Bayar Pay	<u>Alif bin Zamri</u>	Atau Pembawa
Ringgit Malaysia	<u>Satu Ribu Sahaja</u>	RM 1000.00
		<i>Kamelia</i>
"678543" 56"12453" 5643217896" 01		

Rajah 6

Siapakah penyuruh bayar dalam cek tersebut?

- A Bank Malaysia Berhad
B Bank Putri Bhd.
C Alif bin Zamri
D Kamelia
24. Antara berikut, masalah yang manakah dapat diatasi oleh peniaga daripada perkhidmatan syarikat pemfaktoran?
- I Aliran tunai
II Hutang lapuk
III Stok lapuk
IV Menyimpan stok
- A I dan II
B I dan IV
C II dan III
D III dan IV

25. Operasi takaful bebas daripada unsur

- I riba
- II gharar
- III maisir
- IV tabarruk

- A I, II dan III
- B I, II dan IV

- C I, III dan IV
- D II, III dan IV

26. Gambar 3 menunjukkan perbualan di antara Encik Mohan dengan pengurus syarikat insurans.



Gambar 3

Apakah prinsip insurans yang gagal dipatuhi oleh bapa Encik Mohan?

- A Kepentingan boleh insurans
- B Doktrin sebab hampiran
- C Penuh percaya mutlak
- D Indemniti

27. Antara berikut, yang manakah **bukan** perbezaan di antara pengangkutan jalan raya dengan pengangkutan rel.

	Pengangkutan jalan raya	Pengangkutan rel
A	Jadual perjalanan fleksibel	Terikat pada jadual perjalanan
B	Serahan pintu ke pintu	Tiada serahan pintu ke pintu
C	Kemudahan perkhidmatan banyak	Kemudahan perkhidmatan terhad
D	Lebih pantas jarak jauh	Lebih pantas jarak dekat


28. Jadual berikut berkaitan dengan pemilihan jenis kapal.

Situasi	Keterangan
P	Perlu pengangkutan untuk mengangkut 40,000 liter petrolium ke Jepun
Q	Perlu pengangkutan untuk mengangkut 5,000 set perabut jati ke Itali
R	Perlu pengangkutan untuk mengangkut 10,000 tong minyak sawit ke New Zealand

Apakah jenis kapal yang sesuai untuk setiap situasi tersebut?

	Situasi P	Situasi Q	Situasi R
A	kapal kerentan	kapal kargo	kapal tangki
B	kapal kerentan	kapal kontena	kapal kerentan
C	kapal tangki	kapal kontena	kapal kargo
D	kapal tangki	kapal kargo	kapal kontena

29. Apakah kelebihan Pengangkutan Antarabangsa Routier (TIR)?
- Pengecualian cukai kastam bagi barang yang dieksport menggunakan kontena.
 - Kontena tidak perlu dibuka dan diperiksa oleh kastam di negara perantara.
 - Penggunaan kontena tidak memerlukan dokumentasi kastam.
 - Kerosakan kontena akan ditanggung oleh pihak kastam.
30. Rajah 7 menunjukkan salah satu perkhidmatan yang disediakan oleh pejabat pos.



Rajah 7

Apakah perkhidmatan tersebut?

- Sampul surat berdaftar
 - Data pos
 - Poskad
 - Frangki
31. Antara berikut, yang manakah merupakan perkhidmatan audiovisual?
- Internet
 - MAYPAC
 - Sidang audio
 - Mel elektronik
- I, II dan III
 - I, II dan IV
 - I, III dan IV
 - II, III dan IV
32. Rajah 8 menunjukkan satu jenis iklan.

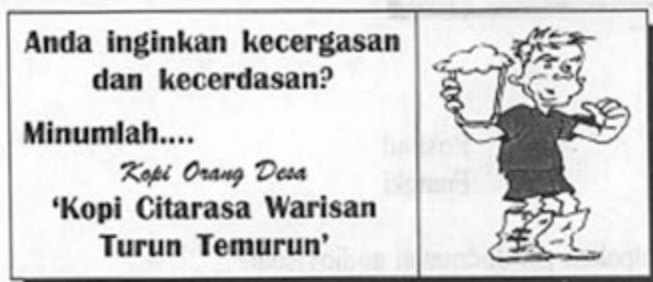
SEWA GUDANG
Anda tiada tempat untuk menyimpan barang?
Gudang kami sesuai untuk peniaga yang kekurangan modal.
<ul style="list-style-type: none"> • Pembayaran cukai import boleh ditangguhkan • Boleh cagarkan barang dalam gudang untuk dapatkan pinjaman
Lokasi gudang: Pelabuhan Kelang, Johor Bahru, Bukit Kayu Hitam
Kadar sewa terendah
Hubungi: Syahirah 03-43883088

Rajah 8

Apakah jenis gudang yang ditawarkan?

- Gudang pengilang
- Gudang kerajaan
- Gudang berlesen
- Gudang kastam

33. Ciri gudang yang manakah memudahkan kerja-kerja pemunggaan?
- Kawalan keselamatan ketat
 - Sistem rekod kemaskini
 - Ruang yang luas
 - Lokasi strategik
34. Mengapakah promosi penting kepada pengguna?
- Dapat merancang pembelian sesuatu barang
 - Dapat mengetahui kewujudan barangan baru
 - Dapat mempengaruhi pengguna untuk membeli
 - Dapat menikmati barang pada harga paling murah
35. Rajah 9 merupakan maklumat yang dipetik daripada satu iklan.



Rajah 9

Apakah daya tarikan iklan yang digunakan di dalam iklan tersebut?

- Pujukan moral
 - Pujukan emosi
 - Pujukan ikhlas
 - Pujukan rasional
36. Berikut adalah pernyataan tentang dua buah perniagaan.

Syarikat Perabot Megah Berhad	Kedai Runcit Merah Ceria
Media pengiklanan yang dipilih ialah televisyen dan pameran	Media pengiklanan yang dipilih ialah risalah dan poster

Di antara berikut faktor manakah yang mempengaruhi pemilihan media pengiklanan bagi kedua-dua perniagaan di atas?

- Jenis dan sifat barang
 - Kos pengiklanan
 - Saiz perniagaan
 - Dasar kerajaan
- I, II dan III
 - I, II dan IV
 - I, III dan IV
 - II, III dan IV

37. Gambar 4 menunjukkan satu agensi kerajaan.



Gambar 4

Apakah peranan agensi tersebut?

- A Menyediakan latihan dan pengurusan
 - B Menyediakan kemudahan pembiayaan
 - C Menjalankan penyelidikan dan khidmat nasihat
 - D Menyediakan kemudahan infrastruktur dan ruang niaga
38. Rajah 10 merupakan satu label yang terdapat pada satu bungkusan makanan.

MAKLUMAT PEMAKANAN	
Saiz hidangan 33g	
Purata Komposisi	Setiap 100g
Lemak	7.9g
Protein	9.4g
Karbohidrat	82.7g
Ramuan : Barli, gula, susu tepung, koko, vitamin dan bahan perisa yang dibenarkan.	
Guna sebelum: 28.05.2011	
Hubungi kami untuk khidmat pengguna: 1 800 77 3434 www.olioten.com	

Rajah 10

Apakah hak pengguna yang dipenuhi oleh pengeluar makanan tersebut?

- A Hak membuat pilihan
 - B Hak mendapat maklumat
 - C Hak mendapat keselamatan
 - D Hak mendapat keperluan asas
39. Apakah faktor yang dipertimbangkan oleh pengguna semasa memilih tempat untuk membeli?
- I Lokasi kedai
 - II Kepelbagaian barang
 - III Sikap dan layanan peniaga
 - IV Jaminan keselamatan
- A I, II dan III
 - B I, II dan IV
 - C I, III dan IV
 - D II, III dan IV

40. Rajah 11 diambil dari satu botol air mineral.



Rajah 11

Apakah bentuk tanggungjawab yang telah dilaksanakan oleh pengeluar air mineral tersebut?

- A Melaksanakan tanggungjawab sosial
- B Mengamalkan pengiklanan yang beretika
- C Mempraktikkan amalan perniagaan yang baik
- D Membantu menyebarkan pendidikan konsumerisme

KERTAS SOALAN TAMAT